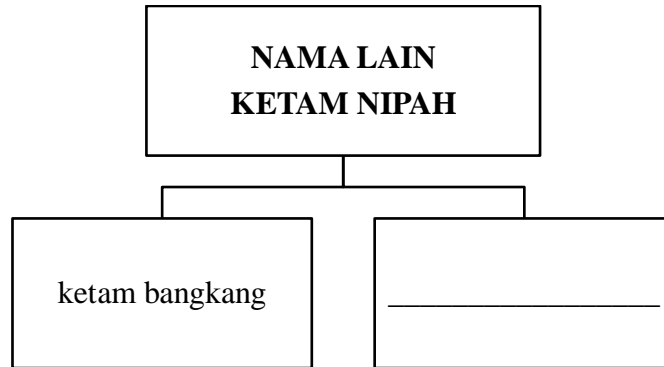


PETIKAN 1 : RENCANA - KENALI KETAM NIPAH

Petikan ini mengandungi **enam** soalan.

Jawab soalan-soalan berikut berdasarkan petikan yang diperdengarkan.

1. Lengkapkan rajah dengan nama lain bagi ketam nipah.



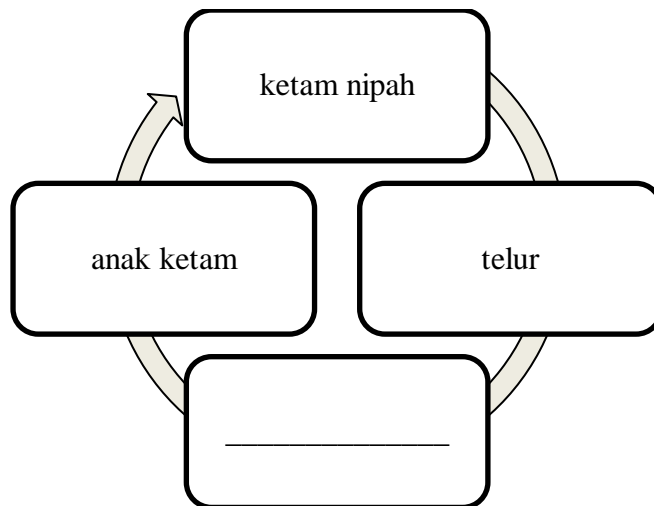
[1 markah]

2. Lengkapkan pernyataan berikut dengan jawapan yang betul.

Habitat asal ketam nipah ialah di kawasan paya _____.

[1 markah]

3. Lengkapkan rajah berikut dengan kitaran hidup ketam nipah yang betul.



[1 markah]

4. Lengkapkan pernyataan berikut dengan jawapan yang betul.

Ketam nipah yang mempunyai telur dijual dengan harga antara RM30 hingga _____ seekor.

[1 markah]

5. *Mengapakah populasi ketam nipah berkurangan?*

Populasi ketam nipah berkurangan kerana penangkapan _____
secara berleluasa.

[1 markah]

6. *Tandakan (✓) bagi pernyataan yang betul atau (X) bagi pernyataan yang salah.*

| | | |
|-------|---|--|
| (i) | Tiga juta telur boleh dihasilkan oleh induk ketam nipah. | |
| (ii) | Kitaran hidup ketam nipah mengambil masa selama 30 hari. | |
| (iii) | Kajian penghasilan benih ketam nipah dijalankan secara kecil-kecilan di Malaysia. | |

[2 markah]

PETIKAN 2: IKLAN KARNIVAL KERJAYA

Petikan ini mengandungi **lima** soalan.

Jawab soalan-soalan berikut berdasarkan petikan yang diperdengarkan.

1. Lengkapkan iklan dengan tarikh karnival kerjaya yang betul.

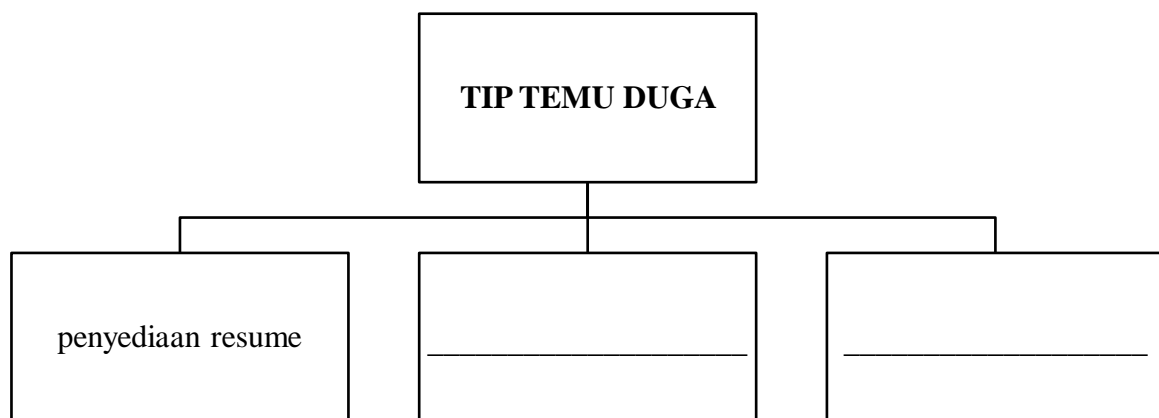
| | |
|---------------------------|--|
| <h1>Karnival Kerjaya</h1> |  |
| Tarikh : _____ | |
| Tempat : Persada Johor | |

[1 markah]

2. Berapakah bilangan gerai pameran yang melibatkan agensi kerajaan di karnival tersebut?

[1 markah]

3. Lengkapkan rajah dengan tip temu duga kepada pengunjung.



[2 markah]

4. Lengkapkan pernyataan berikut dengan jawapan yang betul.

Sesi uji bakat anjuran _____ terkemuka akan diadakan kepada para pengunjung yang berminat untuk menyertai bidang _____.

[2 markah]

5. Tandakan (\surd) bagi pernyataan yang betul atau (X) bagi pernyataan yang salah.

| | | |
|-------|--|--|
| (i) | Program Karnival Kerjaya berlangsung selama sehari di Persada Johor. | |
| (ii) | Agensi terlibat turut mengadakan temu duga terbuka kepada pengunjung. | |
| (iii) | Pengunjung boleh membuat semakan status pendaftaran pekerjaan di karnival ini. | |

[2 markah]

PETIKAN 3: BERITA - LADANG DURIAN MUSANG KING TERBESAR DI MALAYSIA

Petikan ini mengandungi enam soalan.

Jawab soalan-soalan berikut berdasarkan petikan yang diperdengarkan.

1. *Lengkapkan pernyataan berikut dengan jawapan yang betul.*

Durian Musang King dikenali sebagai sebagai _____ yang dikatakan berasal dari Thailand.

[1 markah]

2. *Lengkapkan rajah berikut dengan keluasan ladang durian Musang King di Kelantan.*



**KELUASAN LADANG
DURIAN MUSANG KING**

_____ hektar

[1 markah]

3. *Lengkapkan pernyataan berikut dengan jawapan yang betul.*

Kawasan Tanah Tinggi Lojing akan dijadikan lokasi agropelancongan dan pusat _____ sebelum diproses dan dieksport.

[1 markah]

4. Nyatakan manfaat pembukaan ladang durian Musang King di Kelantan.

i) limpahan sosioekonomi

ii) _____

[1 markah]

5. Nyatakan negara yang membuat permintaan tinggi durian Musang King.

(i) _____

[1markah]

6. Tandakan (\surd) bagi pernyataan yang betul atau (X) bagi pernyataan yang salah.

| | | |
|-------|---|--|
| (i) | Negeri Kelantan akan menjadi pengeluar utama Musang King di Asia pada masa hadapan. | |
| (ii) | Sebanyak 60,000 pokok durian Musang King ditanam di ladang tersebut. | |
| (iii) | Penghasilan 200,000 tan metrik durian Musang King disasarkan oleh kerajaan negeri. | |

[2 markah]

PETIKAN 4: TAKLIMAT – SEJARAH BANGUNAN SULTAN ABDUL SAMAD

Petikan ini mengandungi enam soalan.

Jawab soalan-soalan berikut berdasarkan petikan yang diperdengarkan.

1. *Lengkapkan pernyataan berikut dengan jawapan yang betul.*
Bangunan Sultan Abdul Samad terletak di pertemuan antara Sungai Klang dan _____.

[1 markah]

2. Bilakah Bangunan Sultan Abdul Samad mula dibina?

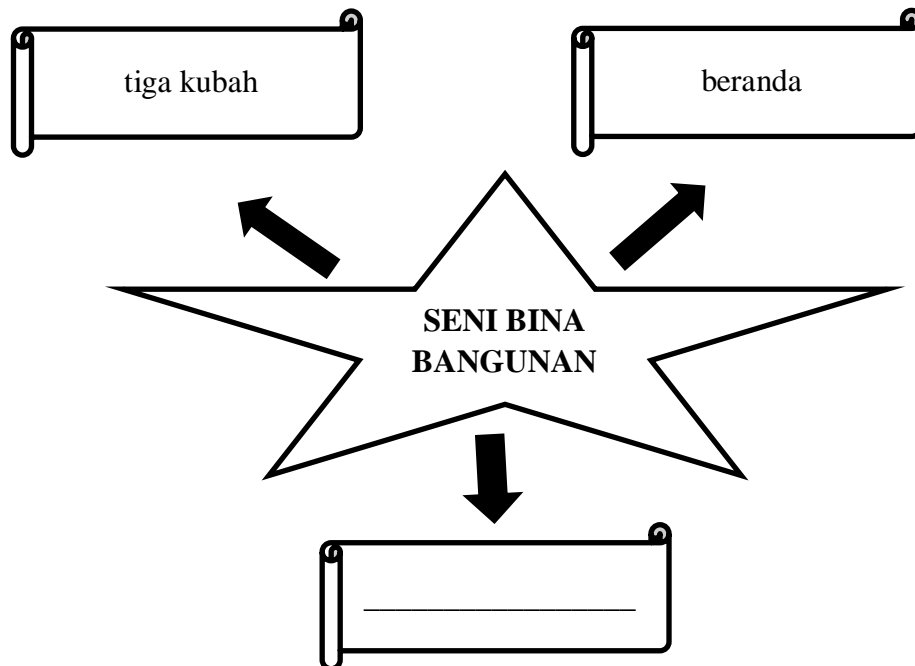
- A. 1894
- B. 1948
- C. 1957
- D. 1974

[1 markah]

3. *Lengkapkan pernyataan berikut dengan jawapan yang betul.*
Pada peringkat awal, Bangunan Sultan Abdul Samad dikenali sebagai _____.

[1 markah]

4. *Lengkapkan rajah berikut dengan jawapan yang betul.*



[1 markah]

5. Lengkapkan rajah berikut dengan maklumat yang betul.

| | |
|------------------|-------------|
| keluasan beranda | _____ meter |
| warna asal kubah | _____ |

[2 markah]

6. Tandakan (\surd) bagi pernyataan yang betul atau (X) bagi pernyataan yang salah.

| | | |
|-------|--|--|
| (i) | Bangunan Sultan Abdul Samad dinamakan sempena nama Sekretariat Persekutuan. | |
| (ii) | Jabatan Warisan Negara telahewartakan Bangunan Sultan Abdul Samad sebagai Warisan Kebangsaan pada tahun 2007. | |
| (iii) | Beberapa buah kementerian, jabatan kerajaan persekutuan dan Jabatan Kerajaan Negeri Selangor pernah ditempatkan di bangunan ini. | |

[2 markah]

KERTAS SOALAN TAMAT